

1. Berechne die Rechenausdrücke mit Hilfe eines Rechenbaumes.

(a)  $17 + 8 \cdot 4$

(d)  $40 \cdot 5 + 3 \cdot 5$

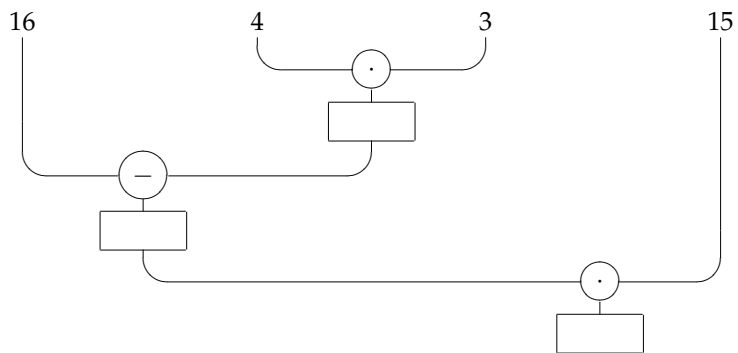
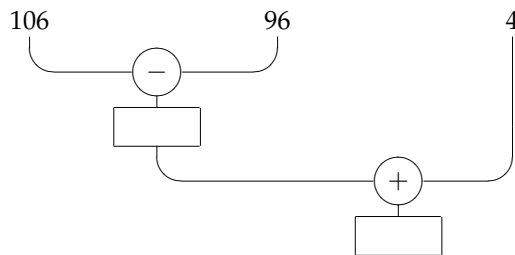
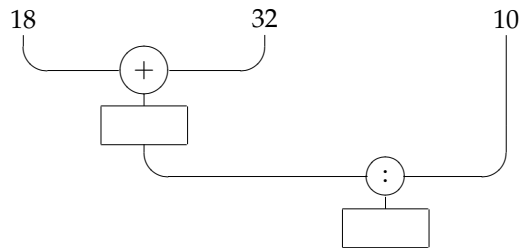
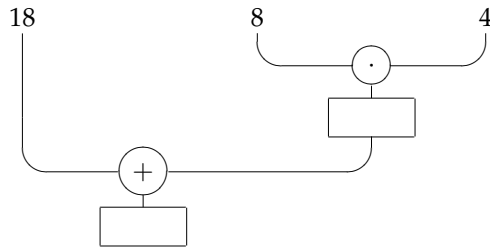
(b)  $(29 - 9) \cdot 6$

(e)  $(23 - 15) \cdot 7 + 4$

(c)  $33 \cdot (16 + 24)$

(f)  $18 + 9 \cdot 2 + 23$

2. „Übersetze“ die Rechenbäume in einen Rechenausdruck. Rechne



Multiplikation

3. „Übersetze“ die Rechenbäume in einen Rechenausdruck. Rechne

