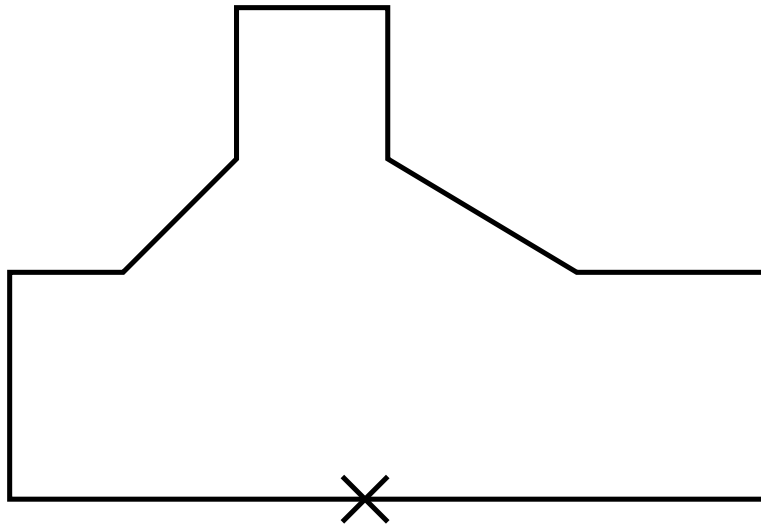
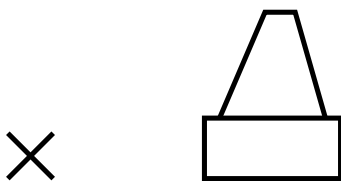


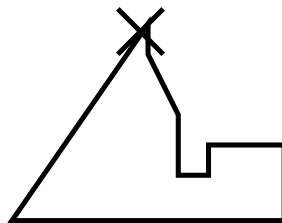
1. Verkleinere von dem Kreuz aus mit $k = 0,5$.



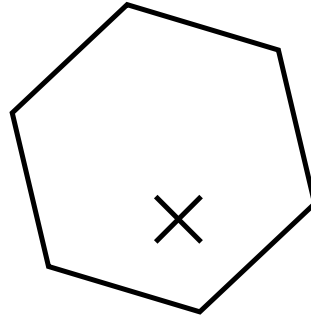
2. Verkleinere von dem Kreuz aus mit $k = 3$.



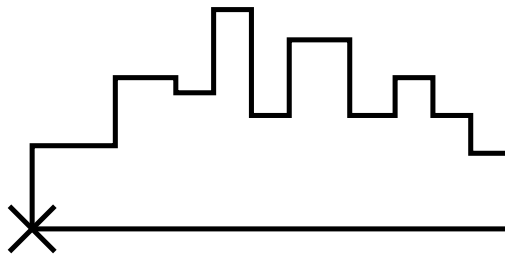
3. Vergrößere von dem Kreuz aus mit $k = 2,5$




4. Vergrößere von dem Kreuz aus mit $k = 1,5$



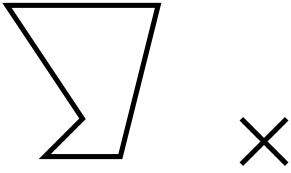
5. Verkleinere von dem Kreuz aus mit $k = 0,4$.



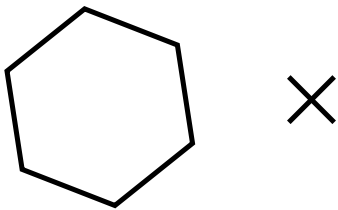
6. Strecke von dem Kreuz aus mit $k = -1$.



7. Strecke von dem Kreuz aus mit $k = -1,5$.



8. Strecke von dem Kreuz aus mit $k = -0,5$.



9. Strecke von dem Kreuz aus mit $k = -2,5$.

