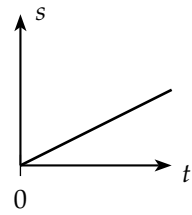
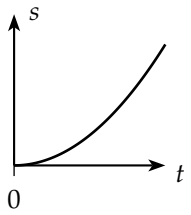
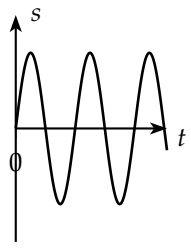


1. Analysieren Sie Bewegungsvorgänge hinsichtlich Bewegungsform und -art. Geben Sie die Merkmale der Bewegungsarten mithilfe der Geschwindigkeit an.

Bewegungsform (Bahnform)	Geschwindigkeit (Merkmal)	Bewegungsart

2. Ordnen Sie passende Bewegungsarten den folgenden $s - t$ -Diagrammen zu. Welche Bewegungsart gehört zu (c)? Begründen Sie Ihre Vermutung.

Diagramm	(a)	(b)	(c)
			
Bewegungsart			

